

Данный тестовый вариант состоит из 30 тестовых заданий.

В книгу включены тестовые задания закрытого и открытого типа.

При решении тестовых заданий закрытого типа необходимо из 4-х предложенных вариантов ответов выбрать только один и в листе ответов на соответствующей номеру задания строке написать букву (А, В, С или D), соответствующую выбранному ответу.

В тестовых заданиях открытого типа Ваш ответ необходимо написать четко и ясно в лист ответов на соответствующую номеру задания строку.

1. Расположите в хронологической последовательности исторические события, произошедшие в период с момента битвы при Херонеи и до полного разрушения Карфагена древним Римом:
- 1) Марафонская битва; 2) вторжение Ганнибала на территорию Северной Италии и разгром армии римлян при Каннах; 3) завоевание Вавилона древнеперсидским царем Киром II; 4) завоевание Греко-Бактрийского царства кочевыми племенами юедами; 5) захват Мараканды Александром Македонским; 6) начало восстания Спартака в Риме; 7) образование единого государства во главе с Цинь Шихуанди; 8) начало похода на Восток Александром Македонским; 9) образование Коринфского союза; 10) образование государства Хань в Китае; 11) выход Бактрии из состава государства Селевкидов
- А) 11, 4, 6, 7, 5, 1, 3, 8    В) 4, 2, 5, 7, 10, 11, 6, 1  
С) 9, 8, 5, 11, 7, 2, 10    D) 11, 10, 7, 5, 1, 3, 9, 6

2. Установите соответствие:
- 1) Древний Хорезм; 2) Кангха; 3) Давань;
- а) в IV в. до н.э. становится независимым от державы Ахеменидов; б) в конце II в. до н.э. становится могущественным государственным объединением; в) археологические находки показали, что данное государство во II-I вв. до н.э. являлась высокоразвитым государством с многочисленным населением и хорошо вооруженным и обученным войском; г) через территорию государства проходила северная часть Великого шёлкового пути, что способствовало его развитию; е) в одном из походов Китая даже удалось захватить столицу данного государства, но вскоре, согласившись на выкуп, войска Китая ушли из-за не прекращавшегося сопротивления населения; ф) в I в. до н.э. и в первые века нашей эры в данном государстве чеканились серебряные и медные монеты
- А) 1-а, ф; 2-б, д; 3-с, е    В) 1-б, с; 2-д, е; 3-а, ф  
С) 1-б, с; 2-а, е; 3-д, ф    D) 1-а, ф; 2-с, д; 3-б, е

3. Выберите пропущенный элемент, подходящий к данному ряду.

- 1) Киевская Русь – Ярослав;  
2) Чешское государство – Вацлав;  
3) государство Франков – ...;  
4) Болгарское царство – ...;  
5) Польское государство – ...

Исторические личности: *Герберт, Эгидий, Хильперик, Маврикий, Аспарух, Владимир Мономах, Юстиниан I, Мешко I*

Ответ: \_\_\_\_\_

\_\_\_\_\_

**Внимание!** Запишите ваш ответ в лист ответов.

4. Определите исторические личности, к которым относятся нижеприведенные сведения.
- I. *"Он вступил на престол в XVII веке. Одной из основных целей его внешней политики было превращение России в сильную военно-морскую державу. Он успешно справился с этой задачей. Во время его правления Россия стала империей и в стране окончательно утвердилась абсолютная монархия"*
- II. *"Он был правителем Индии во второй половине XVII и начале XVIII в. В целях сохранения распадающейся империи, стал внедрять устои исламской религии. Он возобновил сбор налога с немусульман – джизью, вдвое увеличил все налоги для индусов, запретил им отмечать свои праздники, приказал разрушить индуистские храмы."*
- III. *"Он был султаном Османской империи в XVI веке. В 1514 году разгромил войско иранского шаха Исмаила Сефевиды. Эта победа открыла путь к завоеванию Египетского султаната, который был союзником иранского шаха. Он сначала овладел Сирией и Палестиной. В 1517 году была захвачена столица Египта – Каир."*

Ответ: \_\_\_\_\_

\_\_\_\_\_

**Внимание!** Запишите ваш ответ в лист ответов.

5. Установите соответствие между государствами и историческими сведениями:  
 1) Великобритания; 2) Франция; 3) США; 4) Германия;  
 а) согласно договору, заключенному с Россией в 1891 году, в случае внешнего нападения на одно из двух государств предусматривалось, что вторая сторона незамедлительно объявляет военную мобилизацию; б) в 1901 году данное государство "уступило" США по проблеме Панамского канала; в) захват Гавайских островов, расположенных в самом центре Тихого океана на перекрестке стратегически важных морских путей, ведущих к Азии; г) заключение договора о передаче Курильских островов Японии с условием отказа японского правительства от притязаний на Южный Сахалин; е) в конце 90-х XIX века оккупировало часть провинции Шаньдун, также завоевало Каролинские, Марианские и Маршалловы острова
- А) 1-б, 2-а, 3-с, 4-е    В) 1-а, 2-е, 3-д, 4-с  
 С) 1-с, 2-б, 3-д, 4-е    D) 1-б, 2-а, 3-с, 4-д
6. Какие из перечисленных сведений **не относятся** к периоду 1870-1918 гг. истории Ирана?  
 1) начало правления династии Сефевидов;  
 2) подписание англо-русской конвенции, по которой Иран разделялся на три части;  
 3) начало правления династии Пехлеви;  
 4) начало первой революции в истории страны;  
 5) образование первого в истории страны парламента - Меджлис;  
 6) начало исламской революции в стране;  
 7) свержение с трона Мухаммада Алишаха;  
 8) объявление Исламской Республики Иран;  
 9) совершение шахом контрреволюционного государственного переворота с помощью англичан и русских;  
 10) принятие закона об отмене чадры
- А) 1, 3, 5, 7, 9    В) 2, 4, 5, 7, 9    С) 2, 4, 6, 8, 10  
 D) 1, 3, 6, 8, 10
7. Определите государства Латинской Америки, в которых буржуазная революция 1930 года покончила с олигархическим режимом (а) и консервативный олигархический режим сменился либерально-реформистским (б).

Ответ: \_\_\_\_\_

**Внимание!** Запишите свой ответ в лист ответов.

8. Ядерная программа Ирана, препятствовавшая полнокровной интеграции страны в мировое сообщество, после десяти лет переговоров была разрешена в 2015 году путём подписания соглашения с представителями шести государств. Укажите эти государства.  
 1) Индия; 2) США; 3) Россия; 4) Иордания;  
 5) Китай; 6) Узбекистан; 7) Великобритания;  
 8) Франция; 9) Пакистан; 10) Германия; 11) Ирак
- А) 1, 4, 5, 6, 7, 11    В) 2, 3, 6, 7, 9, 10  
 С) 1, 4, 5, 8, 9, 11    D) 2, 3, 5, 7, 8, 10

9. Определите государства, к которым относятся нижеприведенные сведения.  
 I. *"Государство господствовало в Средней Азии с 70-х годов IV века до второй половины V века. Это государство было основано одним из тюркских племен, центром государства была Зеравшанская долина. Племена, которые основали это государство сначала захватили Зеравшанскую долину, затем двинулись на юг и захватили земли уже давно ослабевшего Кушанского царства. В его состав вошли Северная Индия с центром Тохаристан, а также Афганистан и часть Хорасана".*  
 II. *"Государство было основано в середине VIII века в Семиречье одним из тюркских племен, издревле жившим западе Алтая, затем в среднем течении реки Иртыша. Столицей считался город Суяб, севернее реки Чу. Правитель государства носил титул «ябгу» или «джабгу»."*

Ответ: \_\_\_\_\_

**Внимание!** Запишите ваш ответ в лист ответов.

10. Установите соответствие между представителями джадидского движения и территориями:  
 а) Ташкент; б) Самарканд; в) Бухара; г) долина Ферганы; е) Хива;  
 1) Махмудходжа Бехбуди; 2) Палваннияз Хаджи Юсупов; 3) Абдукадыр Шукури; 4) Абдулла Авлони; 5) Убайдуллаходжа Асадуллаходжаев;  
 6) Файзулла Ходжаев; 7) Хамза Хаким-заде Ниязи; 8) Абиджан Махмудов; 9) Абдулхамид Чулшан; 10) Исхакхан Ибрат; 11) Бабахун Салимов; 12) Саидахмад Сиддики-Аджжи;  
 13) Мунаввар Кары Абдурашидханов;  
 14) Абдурауф Фитрат; 15) Садриддин Айни

Ответ: \_\_\_\_\_

**Внимание!** Запишите свой ответ в лист ответов.

11. 1 ноября 1990 года был принят Закон "О совершенствовании структуры исполнительной и распорядительной власти в Узбекской ССР и внесении изменений и дополнений в Конституцию (Основной закон) Узбекской ССР". Согласно закону, ...
- 1) президентская и исполнительно-распорядительная власть Совета Министров совмещалась;
  - 2) должность вице-президента была упразднена и учреждена должность Премьер-министра;
  - 3) Совет Министров Узбекской ССР был преобразован в Кабинет Министров при Президенте Узбекской ССР;
  - 4) полномочия Президента были продлены с 5 до 7 лет;
  - 5) Президент Узбекской ССР одновременно стал Председателем Кабинета Министров;
  - 6) формой государственного управления в нашей стране является президентская республика
- A) 1, 3, 5, 6    B) 1, 2, 5, 6    C) 2, 3, 4, 6  
D) 2, 3, 4, 5

12. Какие из перечисленных событий произошли после сражения, вошедшего в историю под названием «Битва под Анкарой»? (Запишите в лист ответов только выбранные цифры.)
- 1) захват Герата, Сеистана, Мазендарана Амиром Темуrom;
  - 2) начало похода Амира Темура на Китай;
  - 3) поход Амира Темура на Индию и захват города Дели;
  - 4) захват власти в Самарканде Халилом Султаном Мирзо и объявление его великим правителем Мавераннахра;
  - 5) полный переход Хорезма под власть Амира Темура;
  - 6) гибель Мираншаха в битве с Кара Юсуфом, вождем племени туркменской династии Каракуюнлу;
  - 7) военный поход Ильясходжы на Мавераннахр;
  - 8) назначение Улугбека правителем Мавераннахра и Туркестана.

Ответ: \_\_\_\_\_

**Внимание!** Запишите ваш ответ в лист ответов.

13. Установите соответствие между личностями и должностями первого правительства БНСР, образованного в 1920 году.
- 1) Файзулла Ходжаев;
  - 2) Кори Юлдаш Пулатов;
  - 3) Мухторжон Саиджонов;
  - 4) Усмон Ходжа;
  - 5) Наджиб Хусаинов;
  - 6) Ю.Иброхимов;
  - 7) Мукамал Бурхонов;
  - 8) Мирзо Мухиддин Мансуров;
  - 9) Шихобиддинов;
- а) назир финансов;
  - б) назир государственного контроля;
  - в) председатель чрезвычайной комиссии;
  - г) назир юстиции;
  - д) назир иностранных дел;
  - е) назир внутренних дел;
  - ж) назир просвещения;
  - з) военный назир;
  - и) назир торговли и промышленности
- A) 1-а, 2-с, 3-d, 4-f, 5-b, 6-g, 7-i, 8-e, 9-h  
B) 1-а, 2-с, 3-f, 4-g, 5-b, 6-i, 7-d, 8-e, 9-h  
C) 1-e, 2-g, 3-h, 4-а, 5-f, 6-с, 7-b, 8-i, 9-d  
D) 1-e, 2-g, 3-f, 4-а, 5-b, 6-с, 7-d, 8-i, 9-h

14. Какие из перечисленных терминов (названий) относятся к периоду Великой французской буржуазной революции?
- 1) "Термидор";
  - 2) "Империя";
  - 3) "Конвент";
  - 4) "Гомруль";
  - 5) "Директория";
  - 6) "Консул";
  - 7) "Чартистское движение";
  - 8) "Террор";
  - 9) "Щитовые деньги";
  - 10) "Роялисты";
  - 11) "Бест";
  - 12) "Коммуна";
  - 13) "Опричнина";
  - 14) "Абсолютизм";
  - 15) "Самодержавие";
  - 16) "Ирредентизм"
- A) 1, 3, 5, 6, 8, 10, 12, 14  
B) 2, 3, 6, 9, 11, 13, 14, 16  
C) 2, 4, 5, 8, 11, 13, 14, 15  
D) 1, 4, 7, 9, 10, 12, 15, 16

15. Укажите ответ, где соответствия государство – личность – событие соблюдены.
- 1) Ирак – Саддам Хусейн – вторжение в Кувейт и захват его территории;
  - 2) ФРГ – Гельмут Коль – вступление государства в НАТО;
  - 3) Япония – Тосики Кайфу – предоставление финансовой помощи Египту, Иордании и Турции во время аннексии Кувейта Ираком;
  - 4) Палестина – Ясер Арафат – получение права участия Палестины в деятельности ООН в статусе государства-наблюдателя;
  - 5) США – Дуайт Эйзенхауэр – расцвет "маккартизма" в стране;
  - 6) Пакистан – Парвез Машарраф – проведение военной операции на территории Афганистана при помощи США в 2003-2005 гг.;
  - 7) Франция – Жак Ширак – строительство железнодорожного тоннеля (Евротоннель), построенного совместно с Англией под проливом Ла-Манш;
  - 8) Иран – Мухаммад Реза Пехлеви – проведение реформ, получивших название "белой революции";
  - 9) Чили – Сальвадор Альенде – приход к власти в результате государственного переворота;
  - 10) Великобритания – Маргарет Тэтчер – начало войны с Аргентиной за Фолклендские острова
- A) 2, 4, 5, 6, 7, 10    B) 2, 3, 6, 7, 8, 9  
C) 1, 3, 5, 6, 8, 10    D) 1, 2, 3, 4, 7, 9

16. Установите соответствие между событиями (изобретениями) и историческими периодами (запишите выбранные цифры с соответствующими буквами).
- 1) мезолит; 2) неолит; 3) бронза; 4) поздний палеолит; 5) энеолит;
  - a) человек научился добывать огонь; b) человек научился изготавливать лук со стрелами;
  - c) появилось гончарное ремесло; d) на Древнем Востоке возникают первые города и государства;
  - e) люди изобрели колесо. Появились средства передвижения

Ответ: \_\_\_\_\_

**Внимание!** Запишите ваш ответ в лист ответов.

17. Определите государства, к которым относятся нижеприведенные сведения.
- I. *"В государстве при неурожаях и бедствиях пострадавшим выдавали кукурузу и сушеный картофель. Столицу Куско с областями связывала сеть благоустроенных дорог общей протяженностью свыше 15 тысяч километров. Между частями обширной страны была налажена почтовая связь."*
  - II. *"В древности это государство существовало на севере нынешней Эфиопии и его расцвет пришелся на IV-V вв. Под власть его правителей попали побережье Южной Аравии вместе с караванными путями и часть Восточного Судана. Поддерживало тесные связи с Римской империей, а позднее с Византией. Правитель государства и его приближенные приняли христианство."*

- A) I-государство Ацтеков; II- государство Сонгаи  
B) I-государство Ацтеков; II-государство Мали  
C) I-государство Майя; II-государство Гана  
D) I-государство Инков; II-государство Аксум

18. Укажите требования организации моджахедов в период второго этапа революции в Иране в начале XX века.
- 1) всеобщее избирательное право с тайным голосованием; 2) введение бесплатного обязательного образования; 3) учреждение двухпалатного парламента страны;
  - 4) ограничение рабочего времени до 8 часов;
  - 5) разделение вакуфных земель между безземельными крестьянами; 6) создание обществ; 7) отмена монархии и установление республиканского правления; 8) конфискация шахских земель
- A) 2, 3, 4, 6, 7    B) 1, 2, 4, 6, 8    C) 1, 3, 4, 5, 6  
D) 2, 3, 5, 7, 8

19. Рютаро Хасимото, глава правительства Японии, объявил о начале "шести реформ". В каких сферах были проведены эти реформы?
- 1) в сфере налоговой политики; 2) в военной сфере; 3) в сфере образования; 4) в сфере социального обеспечения; 5) в сфере судопроизводства; 6) ограничение государственного управления в экономике;
  - 7) децентрализация административного управления; 8) в денежной сфере; 9) выделение промышленным компаниям земельных участков;
  - 10) увеличение государственного управления в экономике
- A) 2, 3, 5, 6, 7, 8    B) 2, 4, 5, 7, 9, 10  
C) 1, 4, 5, 8, 9, 10    D) 1, 3, 4, 6, 7, 9

20. В Гандимянском договоре (между Хивой и Россией) было записано: "В ... (1) Амударьи, в местах удобных и нужных для русских, они имеют право возводить свои ... (2). ... (3) отвечает за сохранность и безопасность этих сооружений. Выбор мест для пристаней зависит от утверждения верховной русской властью в ... (4)".

- а) право побережье; б) левобережье; в) крепости; д) пристани; е) Местное население; ф) Ханское правительство; г) церковь; h) промышленное предприятие; и) Средней Азии; j) России  
 А) 1-а, 2-д, 3-ж, 4-h    В) 1-б, 2-д, 3-ф, 4-и  
 С) 1-а, 2-с, 3-ф, 4-г    D) 1-б, 2-д, 3-е, 4-с

21. Определите соответствующий ответ к налогу, который каракалпаки платили Хивинскому ханству в военное время (а) и к налогу, который был введён для покрытия военных расходов в Кокандском ханстве (б).

Ответ: \_\_\_\_\_

**Внимание!** Запишите ваш ответ в лист ответов.

22. Какие из нижеперечисленных изобретений относятся к Древней Индии (а) и Древнему Китаю (б)?

- 1) мина; 2) изготовление сахара из сахарного тростника; 3) компас; 4) шахматы; 5) знак, обозначающий ноль; 6) бумага; 7) сейсмограф; 8) бетон  
 А) а-1, 4, 6; б-3, 5, 8    В) а-2, 4, 5; б-3, 6, 7  
 С) а-1, 2, 5; б-4, 6, 7    D) а-2, 3, 4; б-1, 6, 8

23. Установите соответствие.

- 1) готический стиль; 2) романский стиль; 3) византийский стиль;  
 а) Дворец дождей; б) Собор Парижской Богоматери; в) Лаахский монастырь; д) дворец Альгамбра  
 А) 1-б, 2-с, 3-д    В) 1-б, 2-с, 3-а    С) 1-д, 2-с, 3-б  
 D) 1-а, 2-с, 3-б

24. Установите соответствие:

I. М.Г.Кучеров; II. В.Гальване; III. Ф.Леффлер; IV. В.Гриньяр; V. Ф.А.Лёш; VI. С.Аррениус; VII. Ж.Томсон;

- а) доказал, что отрицательно заряженная металлическая пластинка при освещении лучами дуговой лампы теряет свой заряд; б) открыл реакцию гидратации; в) разработал способ получения смешанных магнийорганических соединений; д) открыл возбудителя амёбной дизентерии; е) культивировал дифтерийную палочку, вызывающую это заболевание; ф) создал теорию электролитической диссоциации; г) выяснил, что катодные лучи – это поток электронов, излучаемый катодом вакуумной трубки.

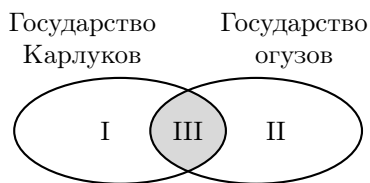
- 1) 1884 год; 2) 1881 год; 3) 1900 год; 4) 1888 год; 5) 1875 год; 6) 1887 год; 7) 1897 год; 8) 1870 год; 9) 1904 год

- А) I-с-9; II-б-3; III-а-4; IV-г-8; V-ф-6; VI-д-7; VII-е-5  
 В) I-б-2, II-а-4; III-е-1; IV-с-3; V-д-5; VI-ф-6; VII-г-7  
 С) I-с-2; II-д-4; III-е-7; IV-б-5; V-ф-6; VI-а-3; VII-г-8  
 D) I-б-3; II-а-1; III-с-5; IV-е-4; V-д-9; VI-ф-2; VII-г-7

25. Укажите логическое соответствие исторических сведений.

- А) Туркестанский край – Джизакское восстание – во главе с Дервишханом  
 В) Англия – восстание Жакерия – под руководством Уота Тайлера  
 С) Корея – вооружённое восстание для свержения группировки Ли – во главе с Хон Гён Нэ  
 D) Мавераннахр – восстание "людей в белых одеждах" – под руководством Баба-Гёклена

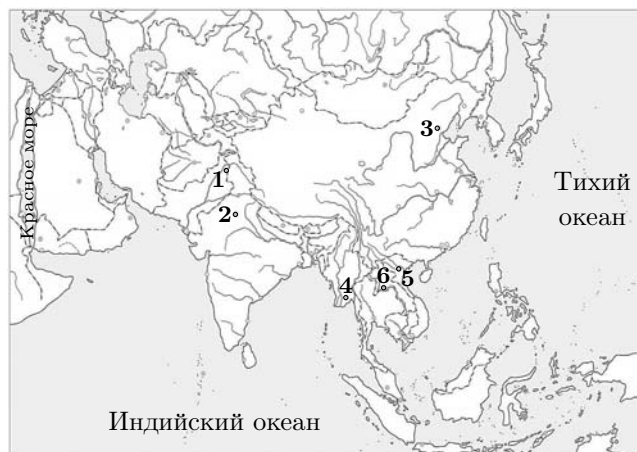
26. Определите вариант, соответствующий диаграмме Эйлера-Венна.



а) было создано в Семиречье в середине VIII века; б) племена, которые основали это государство, находились в составе Тюркского каганата; в) сформировалось на территории бассейна реки Сырдарья и Приаралья; г) его население играло важную роль в этногенезе узбеков и таджиков; д) границы государства простирались на юге до территории племени ягма вплоть до Восточного Туркестана; е) столицей считался город Суяб, севернее реки Чу; ж) население приняло ислам; з) город Янгикент в нижнем течении Сырдарьи был столицей государства; и) его население играло важную роль в этногенезе туркмен, азербайджанцев, каракалпаков; к) после захвата северных территорий Мавераннахра двинулись в Чачский оазис, а также в Ферганскую и Зарафшанскую долины и обосновались там; л) распалось от сильного удара кипчаков, нанесенного с северо-востока; м) было завоевано арабским халифатом.

- А) I-а, д, ф, к; II-б, с, и, ж; III-е, л  
 В) I-а, ф, и, к; II-с, д, е, ж; III-б, г  
 С) I-с, ж, и, к; II-а, б, д; III-е, л  
 Д) I-а, д, е, ф, ж; II-с, ж, и, к; III-б, г

27. Какими цифрами обозначены на карте государства, которые являются членами организации БРИКС?



- А) 4, 6    В) 3, 6    С) 2, 3    Д) 1, 5

28. В каких строках таблицы правильно указаны результаты исторических событий?

№	Событие	Результат
1.	Тридцатилетняя война (1618-1648)	Политическая гегемония в Европе переходит к Германии
2.	«Крымская война» (1853-1856)	Был подписан Парижский мирный договор, который практически устанавливал «покровительство» западных государств над Турцией
3.	Гражданская война в США (1861-1865)	В США было отменено рабство
4.	«Великая крестьянская война» (1524-1526)	Послужило причиной сохранения в Германии на длительное время политической раздробленности
5.	Франко-прусская война	Была установлена Вторая империя во Франции
6.	Первая опиумная война	Великобритания захватила Гонконг
7.	Японо-китайская война (1894-1895)	открылся путь Японии к гегемонии на Дальнем Востоке

А) 1, 2, 3, 6, 7    В) 2, 4, 5, 6, 7    С) 1, 2, 3, 4, 6    D) 2, 3, 4, 6, 7

29. Заполните пустые ячейки таблицы, используя приведённый ниже список пропущенных элементов: для каждого пропуска, обозначенного буквой, выберите номер нужного элемента.

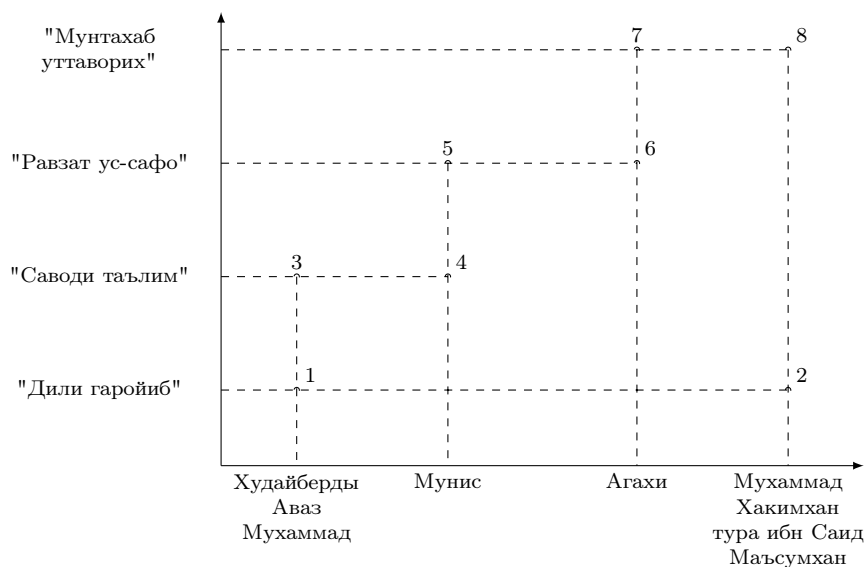
Правитель	Событие	Год
Токугава Иэясу	a	b
c	Принятие первой конституции в истории Франции	1791
d	Продажа Аляски, принадлежавшей России, США	1867
Мустафа III	e	f
g	Подписание англо-афганского договора о дружбе	1855

**Элементы:** 1) 1512 г.; 2) 1592 г.; 3) 1603 г.; 4) 1768 г.; 5) Людовик XVIII; 6) Фатххан; 7) Дост Мухаммадхан; 8) император Александр II; 9) император Николай I; 10) Людовик XVI; 11) Коронация императора Муцухито под именем Мэйдзи; 12) Основание Третьего сёгуната в Японии; 13) Начало войны против России; 14) Захват столицы Египта – Каир

Ответ: \_\_\_\_\_

**Внимание!** Запишите ваш ответ в лист ответов.

30. Определите соответствие между авторами и произведениями:



Ответ: \_\_\_\_\_

**Внимание!** Запишите свой ответ в лист ответов.