

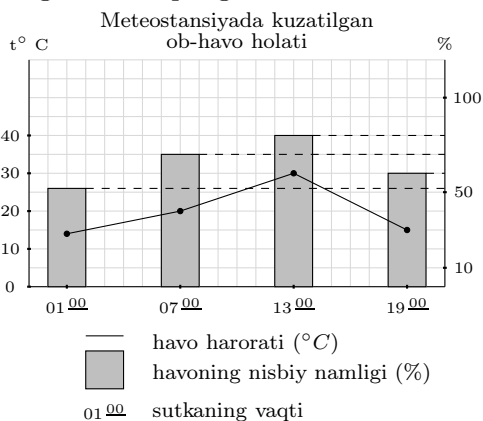
Geografiya

1. Muhammad ibn Muso al-Xorazmiy yozgan geografik asar nomini aniqlang.
 A) "Mamlakatlarning alifbo tartibidagi ro'yxati"
 B) "Surat-al-arz" C) "Iqlimlar kitobi"
 D) "Geografika"

2. Assal ko'lining geografik o'rnini belgilang.
 A) Ajal vodiysi B) Afar botig'i
 C) To'rfon botig'i D) Kattara botig'i

3. Qaysi shaharlarda charm ishlab chiqariladi?
 A) Toshkent, Samarqand
 B) Namangan, Urganch
 C) Andijon, Yangiyo'l
 D) Marg'ilon, Shahrisabz

4. Quyidagi grafik va jadvaldan foydalanib soat 13⁰⁰ da havoning mutlaq namligi qancha bo'lganini aniqlang.



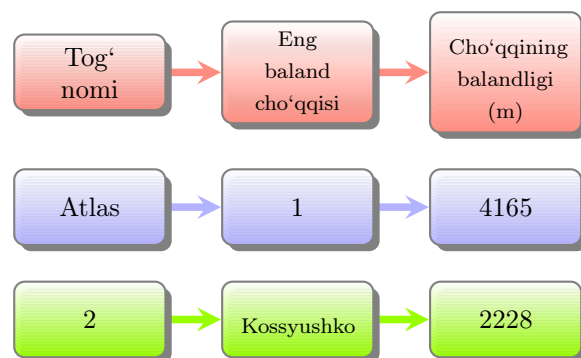
Havo harorati (°C)	1m ³ havo o'zida tutib tura oladigan eng ko'p suv bug'i (g)
0	5
10	9
20	17
30	30

- A) 24 g/m³ B) 27 g/m³ C) 18 g/m³
 D) 21 g/m³

5. Demografik inqiroz deganda nima nazarda tutiladi?
 A) o'lim darajasining pastligi
 B) tabiiy ko'payishning manfiy holati
 C) o'lim va tug'ilish o'rtasidagi farq
 D) aholining migratsiya jarayoni

6. Quyidagi ma'lumotlardan moslashtirilgan javobni toping.
 1) paleozoy; 2) kaynozoy; 3) mezozoy.
 a) hozirgi keksa tog'lar hosil bo'lgan; b) tabiat zonalari paydo bo'lgan (shakllangan);
 c) bahaybat dinosavrlar paydo bo'lgan; d) suv o'tlari paydo bo'lgan.
 A) 1-c, 2-a, 3-b B) 1-a, 2-b, 3-c
 C) 1-d, 2-a, 3-c D) 1-b, 2-a, c

7. Quyidagi chizmada 1 va 2 raqamlar bilan belgilangan kataklarga mos keladigan to'g'ri javobni toping.



- A) 1–Karisimbi; 2–Ural
 B) 1–Tubkal; 2–Katta Suvayrig'ich tizmasi
 C) 1–Mak-Kinli; 2–Kavkaz
 D) 1–Ras-Dashen; 2–Alp

8. O'rta Osiyoning qaysi hududi, asosan, subtropik iqlim mintaqasida joylashgan?

- A) Ustyurt platosi
 B) Hisor-Oloy tog'lari
 C) Ugom-Piskom tog'lari
 D) Turkman-Xuroson tog'lari

9. "Fiat" avtomobil konserni qaysi davlatga tegishli?

- A) Italiya B) Shvetsiya C) Daniya
 D) Kanada

10. Qirg'iziston Respublikasida joylashgan oltin konini toping.

- A) Qazali B) Jitiqara C) Esenguli
 D) Kumtor

11. Yozda O'zbekiston hududi, xususan, uning tekislik qismi juda isib ketishi oqibatida termik o'choq vujudga keladi. Natijada, havo o'ta qizib, siyraklashib, ... (I) bosimli mahalliy kontinental Turon tropik havosi shakllanadi. Bu bo'shliqni to'ldirish uchun shimoli-g'arbdan va g'arbdan salqin havo massasi esadi. Havo qizib ketganligi tufayli bu havo massalari yog'in ... (II).

Matndagi nuqtalar o'rniga quyidagi ma'lumotlardan mos keladigan javobni toping.

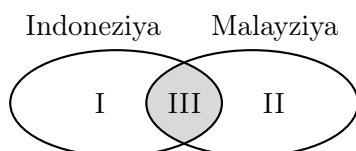
1) yuqori; 2) past; 3) keltirmaydi; 4) keltiradi.

- A) I-1; II-3 B) I-2; II-4 C) I-1; II-4
D) I-2; II-3

12. Quyosh va Oyning tortish kuchi ta'sirida dunyo okeani suvlarida qanday hodisa ro'y beradi?

- A) qalqish B) siklon C) antisiklon
D) sunami

13. Eyler-Venn diagrammasi bo'yicha davlatlarning iqtisodiyotiga xos xususiyatlar to'g'ri ko'rsatilgan javobni toping.



- a) asosiy qishloq xo'jalik ekinlari qatoriga sholi, tabiiy kauchuk, kokos palmasi, tamaki kiradi;
b) iqtisodiy rivojlanganligi va xo'jaligining ixtisoslashuviga ko'ra Osiyoning yangi industrial davlatlari guruhiga kiradi;
c) sanoatining yetakchi tarmoqlariga yoqilg'i, kimyo, yengil sanoat kiradi.

- A) I-b, II-a, III-c B) I-c, II-a, III-b
C) I-c, II-b, III-a D) I-b, II-c, III-a

14. Agar ekologik muammolar kichik ko'lamdagi hududlar doirasida ro'y bersa, bu hududiy ko'lamni jihatdan qanday ekologik muammo hisoblanadi?

- A) subregional B) mintaqaviy
C) sayyoraviy D) lokal

15. O'rta Osiyo o'lkasining janubiy chegarasi Hindikush, Safedko'h, Nishopur tog' tizmalari suvayirg'ichi bo'ylab o'tgach, qaysi tabiiy geografik obyekt bilan tutashadi?

- A) Emba daryosi qirg'og'i
B) Murg'ob daryosi qirg'og'i
C) Amudaryo qirg'og'i
D) Kaspiy dengiz qirg'og'i

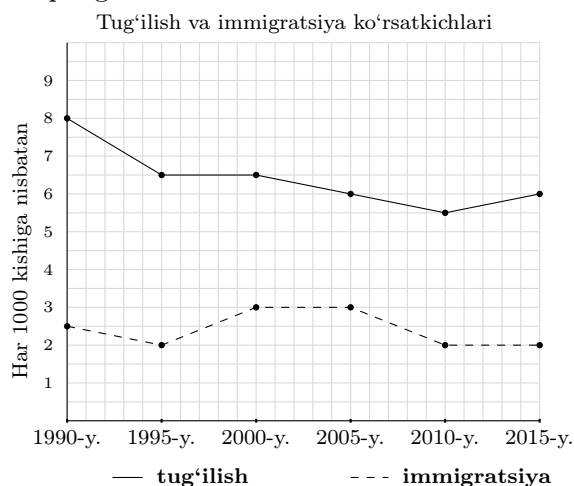
16. Quyidagilardan O'rta Osiyo iqlimida ko'zga yaqqol tashlanadigan asosiy xususiyatlarni aniqlang.

- A) qishda sovuq havo massalarining, janubdan iliq va nam havoning kirib kelishi
B) iqlimning keskin kontinentalligi, quyoshli kunlarning nihoyatda ko'pligi
C) mo'tadil iqlim tarkib topganligi, yog'in miqdorining ko'pligi
D) yozda siklonlar faoliyatining kuchli bo'lishi, qishda haroratning yuqori bo'lishi

17. Chirchiq-Ohangaron okrugi yer yuzasining tarkib topishi qaysi eradan boshlangan?

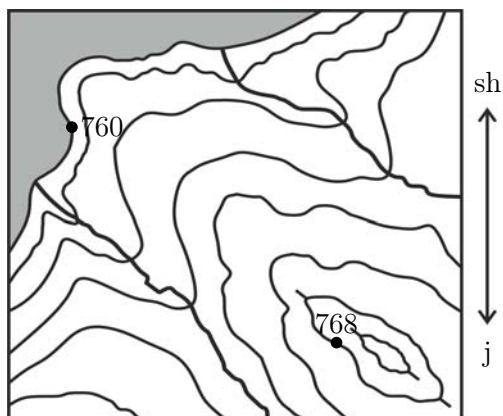
- A) kaynazoy B) arxey C) mezozoy
D) paleozoy

18. Grafikdagi ma'lumotlar asosida tug'ilish va immigratsiya hisobiga aholi soni ko'payishining eng past ko'rsatkichi qaysi yilda qayd etilganini aniqlang.



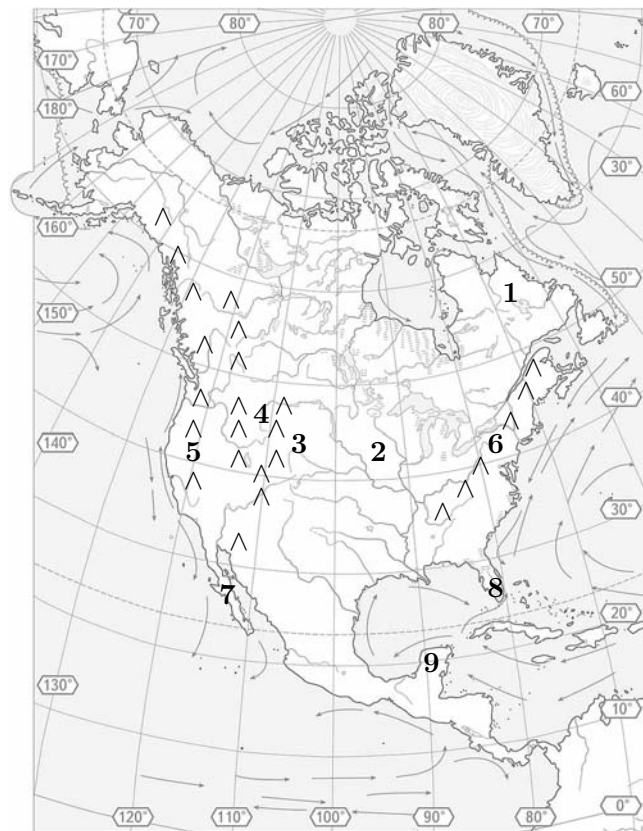
- A) 1990 B) 2015 C) 1995 D) 2010

19. Ushbu chizmadan foydalanib shamol yoʻnalishini aniqlang. (760 va 768 sonlari shu nuqtadagi havo bosimini ifodalaydi.)



- A) janubi-sharqdan shimoli-gʻarbga
- B) janubi-gʻarbdan shimoli-sharqqa
- C) shimoli-sharqdan shimoli-gʻarbga
- D) shimoli-sharqdan janubi-gʻarbga

20. Quyidagi yozuvsiz xaritada Buyuk tekisliklar, Kordilyera togʻlari, Florida yarimoroli qaysi raqamlar bilan belgilanganini mos ravishda toping.



- A) 1, 3, 5 B) 2, 4, 7 C) 3, 5, 8 D) 4, 6, 9