

География

1. Укажите научный труд Мухаммада ибн Муса аль-Хорезми.

- A) "Список государств в алфавитном порядке"
- B) "Сурат-аль-Арз"
- C) "Книга климатов"
- D) "Географика"

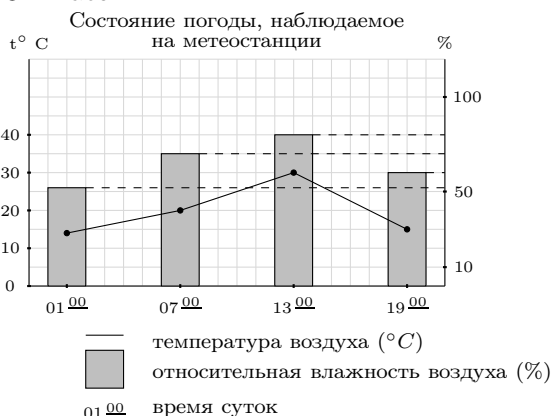
2. Укажите географическое местоположение озера Ассаль.

- A) Турфан B) впадина Афар
- C) впадина Каттара D) долина Смерти

3. В каких городах нашей республики производится кожа?

- A) Ташкент, Самарканд
- B) Маргилан, Шахрисабз
- C) Наманган, Ургенч
- D) Андижан, Фергана

4. На основе данных графика и таблицы определите абсолютную влажность воздуха в 13⁰⁰ часов.



Температура воздуха (°C)	Самое большое количество водяных паров, содержащееся в 1 м ³ воздуха (g)
0	5
10	9
20	17
30	30

- A) 18 g/m³ B) 21 g/m³ C) 24 g/m³
- D) 27 g/m³

5. Что означает демографический кризис?

- A) низкий уровень смертности
- B) отрицательный естественный прирост
- C) убыль населения в результате миграции
- D) разница между показателями рождаемости и смертности

6. Установите соответствие между геологическими эрами и происшедшими событиями в них.

- 1) палеозойская; 2) кайнозойская; 3) мезозойская.
- a) поднятие древних гор, b) формирование природных зон, c) распространение огромных динозавров, d) появление простейших бактерий, водорослей
- A) 1-b, 2-a, c B) 1-c, 2-a, 3-b
- C) 1-d, 2-a, 3-c D) 1-a, 2-b, 3-c

7. Данные какого варианта ответов соответствуют ячейкам, обозначенным цифрами 1 и 2?



- A) 1 – Мак-Кинли; 2 – Кавказ
- B) 1 – Карисимби; 2 – Урал
- C) 1 – Рас-Дашен; 2 – Альпы
- D) 1 – Тубкал; 2 – Большой Водораздельный хребет

8. Укажите территорию Средней Азии, расположенную в субтропическом поясе.

- A) плато Устюрт
- B) Туркмено-Хорасанские горы
- C) Тургайское плато
- D) Гиссаро-Алайские горы

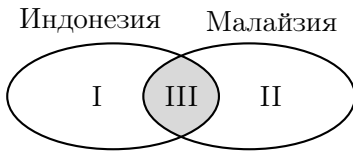
9. Автомобильным концерном какой страны является «Фиат»?

- A) Швеция B) Словакия C) Италия
- D) Австрия

10. Летом на равнинной части республики формируется местная туранская тропическая воздушная масса. Воздух становится сухим и горячим, насыщается мелкой пылью. Здесь формируется область ... (I) давления, что способствует проникновению с северо-запада и запада теплого и более влажного воздуха. Этот воздух быстро нагревается и ... (II). Вставьте в место пропуска в тексте соответствующий ответ.
 1) высокого; 2) низкого; 3) осадки не выпадают; 4) выпадают осадки
 А) I-2; II-4 В) I-1; II-4 С) I-1; II-3
 D) I-2; II-3

11. Какое явление происходит под воздействием сил притяжения Солнца и Луны в океане?
 А) цунами В) антициклон
 С) приливы и отливы D) циклон

12. Какой из областей (I, II, III) диаграммы Эйлера-Венна соответствуют данные сведения?



- а) сельское хозяйство направлено на выращивание риса, натурального каучука, кокосовой пальмы, табака; б) в последние годы страна вошла в десятку ведущих стран мира по числу посещений иностранными туристами; в) ключевые отрасли промышленности – топливная, лёгкая, автомобилестроение, лесная
 А) I-б, II-а, III-с В) I-с, II-б, III-а
 С) I-б, II-с, III-а D) I-с, II-а, III-б

13. Как называется экологическая проблема, по пространственному масштабу охватывающая территории малого масштаба?
 А) ландшафтная В) локальная
 С) региональная D) планетарная

14. К какому физико-географическому объекту примыкает южная граница Среднеазиатской физико-географической страны, проходя по водоразделам гор Гиндукуш, Сафедкох, Нишапур?

- А) устья реки Мургаб
 В) побережья Амударьи
 С) побережья Каспийского моря
 D) устья реки Эмба

15. Укажите основные особенности климата Средней Азии.

- А) резкая континентальность, большое количество солнечных дней
 В) активизации циклонов в течение года, аридность климата по всей территории
 С) вторжение холодных воздушных масс с севера и влажных тропических воздушных масс с юга
 D) умеренный тип климата, равномерное распределение осадков по территории

16. Укажите месторождения золота, расположенное в Кыргызстане.

- А) Жетикара В) Кумтор С) Казалы
 D) Есенгули

17. В какую эру началось формирование рельефа Чирчик-Ахангаранского физико-географического округа?

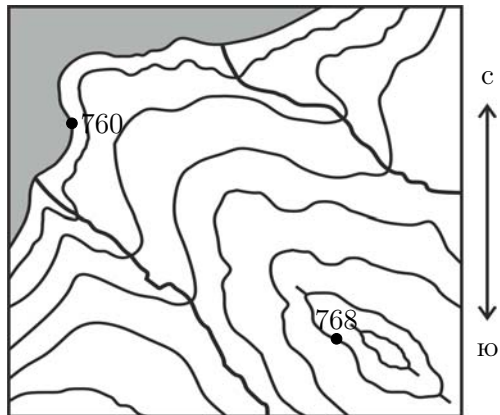
- А) палеозойская В) кайнозойская
 С) архейская D) мезозойская

18. На основе данных графика определите год с самым низким показателем роста численности населения за счет рождаемости и иммиграции.



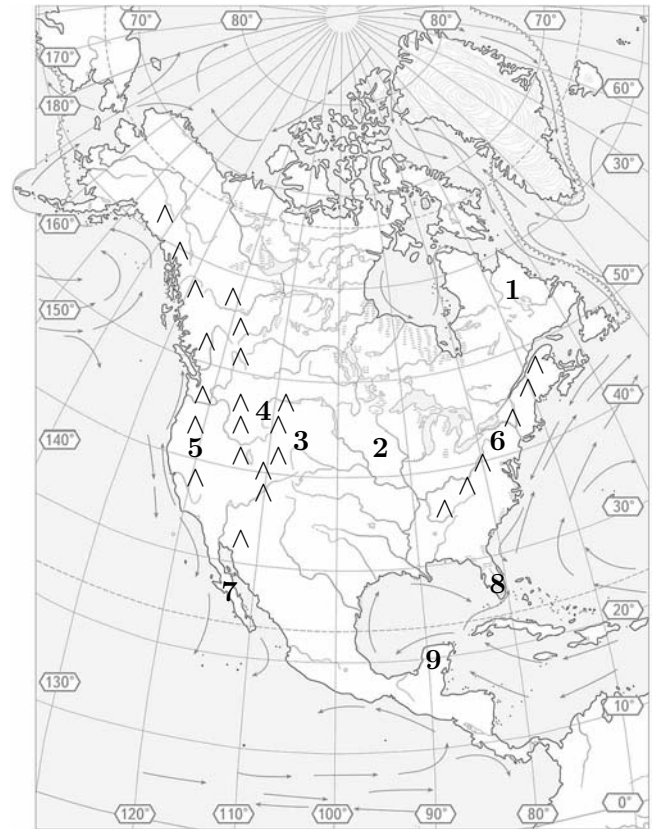
- А) 2010 В) 2015 С) 1995 D) 1990

19. Определите направление ветра на данном плане местности.
(Цифрами 760 и 768 указаны атмосферное давление на точках.)



- A) с северо-запада на юго-восток
 B) с юго-востока на северо-запад
 C) с юго-запада на северо-восток
 D) с северо-востока на юго-запад

20. Какими цифрами на карте обозначены соответственно Великие равнины, горы Кордильеры, полуостров Флорида,



- A) 4, 6, 9 B) 3, 5, 8 C) 2, 4, 7 D) 1, 3, 5